


**ВИКТОРИНА ДЛЯ ДОШКОЛЬНИКОВ**  
**К ШКОЛЕ ГОТОВ! МАТЕМАТИКА**

Фамилия, имя участника: \_\_\_\_\_

**1. Ответьте на вопрос. Сколько рыбок нарисовано на рисунке?**

- 1) 7
- 2) 8
- 3) 9
- 4) 10



**2. Продолжите ряд.**

- 1) 4, 6
- 2) 8, 10
- 3) 10, 11
- 4) 10, 12

2	4	6	8	...	...
---	---	---	---	-----	-----

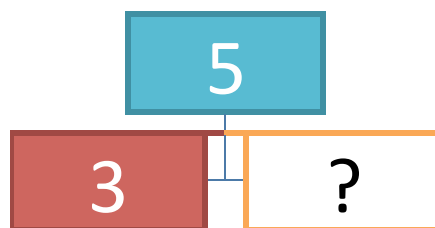
**3. Поставьте нужный знак.**

- 1) >
- 2) <
- 3) =
- 4) :



**4. Найдите нужную цифру.**

- 1) 1
- 2) 2
- 3) 3
- 4) 4



**5. Выберите правильный ответ.**

- 1)  $1 < 3$
- 2)  $2 > 3$
- 3)  $1 > 3$
- 4)  $2 < 3$



=



<

?



**6. Ответьте на вопрос. Кто соседи цифры 8?**

- 1) 5 и 6
- 2) 7 и 9
- 3) 7 и 8
- 4) 4 и 5

**7. Ответьте на вопрос. На каком рисунке нарисован круг?**

- 1) 1
- 2) 2
- 3) 3
- 4) 4



1



2



3



4

8. Ответьте на вопрос. Сколько нужно закрасить кружков, чтобы стало 7?

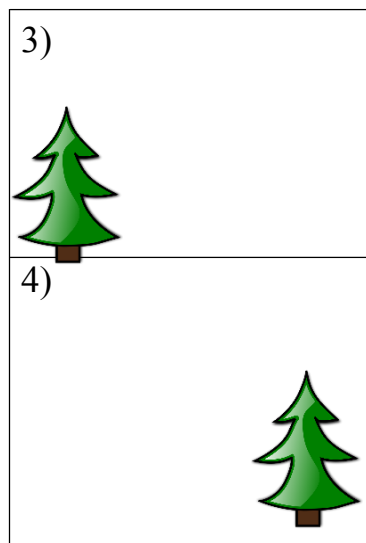
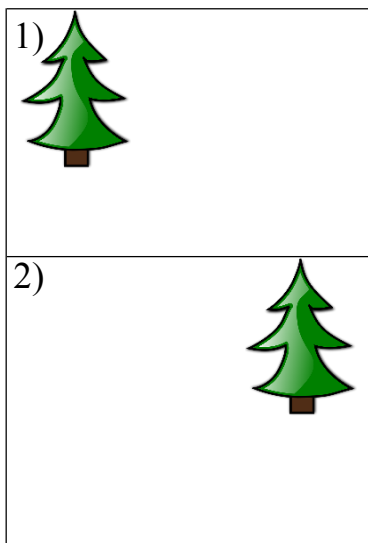
- 1) 1
- 2) 2
- 3) 3
- 4) 4



9. Выбери цифру, от которой надо вычесть 3, чтобы в результате получить цифру 5.

- 1) 7
- 2) 8
- 3) 9
- 4) 10

10. Ответьте на вопрос. В каком квадрате ёлочка нарисована в нижнем правом углу?



Набранных баллов \_\_\_\_\_ (1 верный ответ = 1 балл) Место \_\_\_\_\_